



JULEKONKURRENCE 2001

Kære klubkammerat!

Så er det atter tid for julekonkurrencen. Denne gang har vi atter samlet opgaver af varierende sværhedsgrad.

Der uddeles igen i år 2 præmier. Førstepræmien tildeles deltageren med flest points (ved ligestilling foretages lodtrækning). Desuden trækkes der lod blandt alle deltagere med mindst 30 points om en trøstepræmie.

God fornøjelse!

Med julevenlig hilsen
Julekonkurrenceudvalget (Lars, Gert og Thomas)

Besvarelser afleveres til Thomas senest fredag d. 7/12 kl. 18.30 ved julefrokosten. Alternativt kan besvarelser sendes pr. e-mail til thbech@mail1.stofanet.dk. Senest 7/12 kl. 17.00. Opgaven er også at finde på klubbens hjemmeside på www.aalborgskakforening.dk.



Indsendt af: _____

OPGAVE 2 – LITTERÆRE PERLER

Følgende 3 tekstuddrag er alle fra bøger, hvor skak indgår som et element i historien. Gæt, hvilke bøger det drejer sig om, og hvem forfatteren er. Der gives 2 points for hver rigtig forfatter og 2 points for hver rigtig titel, samt 3 bonuspoints, hvis både opgave A, B og C løses korrekt. Der kan altså maksimalt opnås 15 points.

A)

Ron begyndte at dirigere de sorte brikker. De bevægede sig lydløst af sted mod de felter han udpegede. Harry kunne mærke sine knæ ryste under sig. Hvad nu, hvis det tabte?

"Harry – bevæg dig diagonalt frem – fire felter mod højre."

Den første store forskrækkelse kom, da deres anden springer blev taget. Den hvide dronning slog ham ned og trak ham uden for brættet, hvor han blev liggende livløs på siden.

"Vi var nødt til at ofre ham" sagde Ron, "Det giver dig fri bane til at tage deres løber, Hermione. Kom så af sted!"

B)

Han klædte sig om, og vi spiste middag på Musso's ved halvseks tiden. Ingen drinks. Han stod på bussen på Cahuenga-terminalen, og jeg kørte hjem og funderede på forskellige ting. Hans kuffert lå på min seng, hvor han havde pakket den ud og flyttet sit kluns over i en letvægtskuffert, jeg havde lånt ham. Der sad en forgyldt nøgle i den ene af låsene på hans. Jeg låsede kufferten uden at åbne den, bandt nøglen på håndtaget og lagde kufferten op på øverste hylde i mit garderobereskab. Den føltes ikke helt tom, men hvad der var i den vedkom ikke mig.

Det var en stille aften, og huset føltes endnu mere tomt end ellers. Jeg tog skakbræt og brikker frem og spillede et fransk forsvar mod Steinitz. Han satte mig mat i fireogfyrre træk, men jeg gav ham sved på panden et par gange.

C)

Da hun trådte ind i hans celle, følte hun sig dybt krænket over at se sin søn Harry sidde over for ham ved det vakkelvorne fyrretræs bord, begge med rynkede pander totalt fordybet i et spil skak. Hun blev grebet af en bølge af jalousi.

"Søde Harry, det er *meget* ubetænksomt at dig at belemre stakkels Justin med *skak*, når –"

Men Justin afbrød hende, før hun kunne nå at afslutte sætningen.

"Din søn er usædvanlig intelligent, Gloria" forsikrede han hende. "Tro mig, din mand skal virkelig passe på." Han tog bundtet fra hende, satte sig træt på sengen og løb dem igennem. "Arnold har en ret god fornemmelse for vore fordomme," fortsatte han i den samme ligegyldige tone. "Hvis han er i live, vil det ikke forbavse ham. Hvis han er død kan han jo være ligeglad, ikke?"

OPGAVE 3 - BILLEDGENKENDELSE

Sætternissen har været på spil igen og har gjort billederne nedenunder ret utydelige. Billederne forestiller 8 mere eller mindre kendte skakspillere – hvem?

Der gives 1 point for hvert rigtigt svar, samt 5 bonuspoint, hvis samtlige 8 billeder besvares korrekt. Der kan altså maksimalt opnås 13 points.



1.



2.



3.



4.



5.



6.




7.



8.

OPGAVE 4 – MAT I 2

Alle skal kunne være med. Hvid trækker og sætter mat i 2. Der gives 2 points for korrekt løsning.




OPGAVE 5 – DÆK!

Stil alle hvids officerer, Konge, Dronning, 2 Løbere, 2 Springere og 2 Tårne, så det maksimale antal felter er dækket. En konge på d4 dækker IKKE selv feltet d4 men kun e3,e4,e5,d3,c3,c4,c5. Men f.eks en løber på h8 vil så dække d4 hvor kongen står men ikke b2 (kongen står i vejen). Normale skakregler gælder altså. Der SKAL anvendes én hvidfeltet og én sortfeltet løber. Hvad er det maksimale antal felter, som kan dækkes? Der gives 15 points for korrekt besvarelse.


OPGAVE 6 – MAN SLÅR DA IKKE KVINDER!

På hvilket felt er den hvide dame blevet slået? Begrund dit svar! Der gives 15 points for korrekt besvarelse.




OPGAVE 7 – TVANG!

Hvid er i træk – hvad bliver resultatet? Der gives 5 points for korrekt besvarelse.



OPGAVE 8 – TÆNK DIG OM!

Hvad der skal stå i stedet for spørgsmålstegnet? Begrund! Der gives 15 points for korrekt besvarelse



OPGAVE 9 – FOR MANGE HESTE...

Hvad er det maksimale antal springere som kan placeres på et skakbræt, uden at de truer hinanden? Der gives 10 points for korrekt svar.

OPGAVE 10 – PAT ELLER MAT?

Hvid er i trækket. Hvad bliver resultatet? Begrund! Der gives 10 points for korrekt svar.

